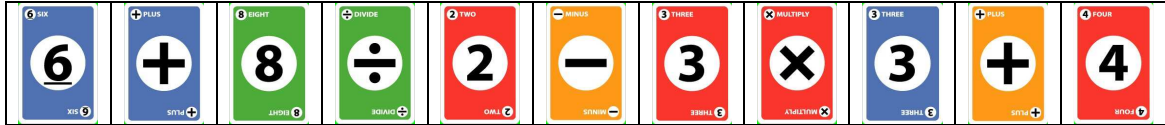


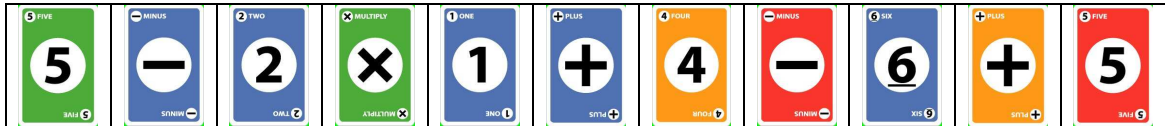
イコール・リンク (Cランク)

NAME		TIME	分	秒
------	--	------	---	---

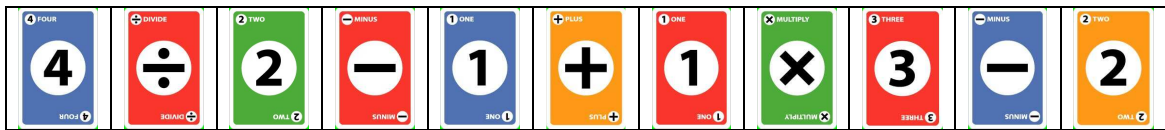
問1 11枚のカードの中から1枚だけを裏返して、全てがつながる式を完成させなさい



問2 11枚のカードの中から1枚だけを裏返して、全てがつながる式を完成させなさい



問3 11枚のカードの中から1枚だけを裏返して、全てがつながる式を完成させなさい



問4 13枚のカードの中から1枚だけを裏返して、全てがつながる式を完成させなさい



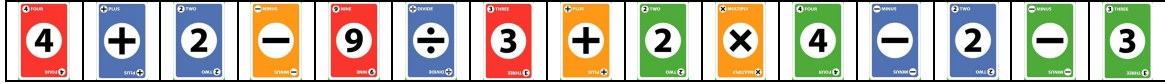
問5 13枚のカードの中から1枚だけを裏返して、全てがつながる式を完成させなさい



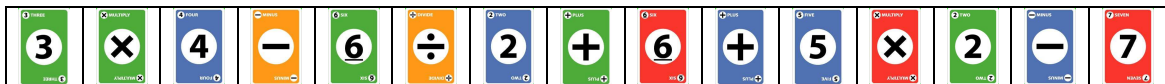
問6 13枚のカードの中から1枚だけを裏返して、全てがつながる式を完成させなさい



問7 15枚のカードの中から1枚だけを裏返して、全てがつながる式を完成させなさい



問8 15枚のカードの中から1枚だけを裏返して、全てがつながる式を完成させなさい



問9 12枚のカードの中から2枚だけを裏返して、全てがつながる式を完成させなさい

6 SIX 6 SIX 6	÷ DIVIDE ÷ DIVIDE ÷	3 THREE 3 THREE 3	+ PLUS + PLUS +	5 FIVE 5 FIVE 5
+ PLUS + PLUS +	↑	→	↓	- MINUS - MINUS -
1 ONE 1 ONE 1	- MINUS - MINUS -	4 FOUR 4 FOUR 4	× MULTIPLY × MULTIPLY ×	2 TWO 2 TWO 2

問 10 14 枚のカードの中から 2 枚だけを裏返して、全てがつながる式を完成させなさい

	→	→	→	→	
	↑				↓
	←	←	←	←	

問 11 18 枚のカードの中から 2 枚だけを裏返して、全てがつながる式を完成させなさい

	→	→	→	→	→	→	
	↑						↓
	←	←	←	←	←	←	